



**PROVA OBJETIVA  
CONCURSO PÚBLICO**

Nível

**Médio Completo**


Cargo

**Motorista AB**

**ORIENTAÇÕES**

**VERIFIQUE ATENTAMENTE SE ESTE CADERNO:**

- ❖ Contém 40 (quarenta) questões, numeradas de 01 a 40, caso contrário reclame ao fiscal da sala outro caderno. NÃO serão aceitas reclamações posteriores.
- ❖ Para cada questão existe apenas **UMA** resposta certa.
- ❖ Você deve ler cuidadosamente cada uma das questões e escolher a resposta certa.
- ❖ A alternativa escolhida deve ser marcada no CARTÃO RESPOSTA que você recebeu.
- ❖ Procurar no CARTÃO RESPOSTA, o número da questão que você está respondendo.
- ❖ Verificar no caderno de prova qual a letra (A, B, C ou D) da resposta que você escolheu.
- ❖ A opção escolhida pelo candidato deverá, **obrigatoriamente**, ser marcada no CARTÃO RESPOSTA, cobrindo todo o círculo, conforme exemplo meramente ilustrativo abaixo:



- ❖ Marque as respostas com caneta esferográfica de material transparente, com tinta na cor azul ou preta.
- ❖ No cartão resposta, marque apenas uma letra para cada questão, mais de uma letra assinalada implicará em nota zero à questão.
- ❖ Não será permitida qualquer espécie de consulta, nem o uso de máquina calculadora.
- ❖ Você terá 04 (quatro) horas para responder a todas as questões e preencher o CARTÃO RESPOSTA.
- ❖ Não será possível a substituição do CARTÃO RESPOSTA.
- ❖ Dirija-se ao fiscal de maneira respeitosa.
- ❖ O CARTÃO RESPOSTA, único e personalizado, é o instrumento exclusivo, para efeito de correção das provas, não sendo permitido rasuras e/ou utilização de corretivos, sob pena de anulação da questão.
- ❖ O(a) candidato(a) deverá, **obrigatoriamente, assinar o CARTÃO RESPOSTA**, sob pena de ser eliminado(a) do Concurso Público.
- ❖ **Obrigatoriamente**, os 03 (três) últimos candidatos deverão permanecer na sala para testemunhar juntamente com os fiscais e coordenador o lacre das provas.

**ATENÇÃO:** Transcreva no espaço apropriado do seu **CARTÃO-RESPOSTA**, com sua caligrafia usual, levando em consideração a variação entre letras maiúsculas e minúsculas, a frase a seguir:

**Educação é a chave do sucesso.**



## LÍNGUA PORTUGUESA

Seca, Rachel de Queiroz

1 Era hora do almoço dos trabalhadores. Enquanto os homens comiam lá dentro, o fazendeiro velho sentava-  
2 se na rede do alpendre, à frente de casa espiando o sol no céu, que tinha como vidro; procurando desviar os  
3 olhos da água do açude, lá além, que dentro de mais um mês estaria virada em lama. Os dois cabras se  
4 aproximaram sem que ele pressentisse. Era um alto e um baixo; o baixo grosso e escuro, vestido numa camisa  
5 de algodãozinho encardido. O alto era alourado e não se podia dizer que estivesse vestido de coisa nenhuma,  
6 porque era farrapo só. O grosso na mão trazia um couro de cabra, ainda pingando sangue, esfolado que fora  
7 fazia pouco. E nem tirou o caco de chapéu da cabeça, nem salvou ao menos. O velho até se assustou e  
8 bruscamente se pôs a cavalo na rede, a escutar a voz grossa e áspera, tal e qual quem falava: – Cidadão, vim  
9 lhe vender este couro de bode. Aquele “cidadão”, assim desabrido, já dizia tudo. Ninguém chega de boa tenção  
10 em terreno alheio sem dar bom dia, e tratando o dono da casa de cidadão. Assim, o fazendeiro achou melhor  
11 fingir que não ouvira – e foi-se pondo de pé. – O quê? Que é que você quer? O homem escuro botou o couro  
12 em cima do parapeito e o sangue escorreu num fio pela cal da parede: – Estou arranchado com a minha família  
13 debaixo daquele juazeiro grande, ali. Essa cabra passou perto – não sei de quem era. Matei, e a mulher está  
14 cozinhando a carne para comer. Agora, o couro, – o senhor ou me dá dinheiro por ele, ou me dá farinha. – E  
15 de quem é essa cabra? É minha? Quem lhe deu ordem para matar? O velho estava tão furioso que o dedo dele,  
16 espetado no ar, tremia. E o loureba esfarrapado chegou perto e deu a sua risadinha: – Ninguém perguntou o  
17 nome do dono... Mas o outro, sempre sério, olhou o velho na cara: – Matei com ordem da fome. O senhor quer  
18 ordem melhor?

(...)

01. No texto de Rachel de Queiroz, “A seca”. Aparece o termo “**TINIA**”, na segunda linha, no qual refere-se ao sol. A utilização desse termo, nesse contexto, significa:

- a) Fosco.
- b) Reluzente.
- c) Escuro.
- d) Pouco claro.

02. Na frase, “O velho até se assustou e **bruscamente** se pôs a cavalo na rede, a escutar a voz grossa e áspera (...)”. O termo em destaque, “**BRUSCAMENTE**”, pode ser classificado gramaticalmente, como:

- a) Advérbio de lugar.
- b) Advérbio de modo.
- c) Adjunto adnominal.
- d) Adjunto adverbial.

### **Restauração de ecossistemas é a chave do combate às mudanças climáticas.**

Por José Guilherme Fronza, Rubens Benini, Fernando Cesário, Milena Rosenfield e Mario Barroso, da TNC Brasil.


1 A chuva intensa que devastou o estado do Rio Grande do Sul nos últimos dois meses escancarou a urgência  
2 pela restauração de ecossistemas naturais. Mas argumentos para isso não faltam há muito tempo: só nos últimos  
3 cinco anos, o Brasil perdeu mais de 8 milhões de hectares de vegetação nativa, o equivalente a duas vezes o  
4 tamanho do estado do Rio de Janeiro – segundo dados do último Relatório Anual do Desmatamento do  
5 MapBiomas. Mais da metade de toda a área desmatada em 2023 fica na região do Cerrado. Suprimir florestas  
6 tropicais pode alterar drasticamente o regime de chuvas, aumentando a temperatura em escala local e global.  
7 A alta no desmatamento dos últimos meses está por trás de fenômenos como a intensificação da atual  
8 temporada de estiagem no Pantanal, por exemplo. Dados do Serviço Geológico do Brasil alertam para a  
9 possibilidade de uma seca severa na região nos próximos meses. Infelizmente, restaurar um sistema não é tão  
10 simples quanto degradá-lo. Cada bioma possui sua própria biodiversidade, com uma variedade de plantas,



11 animais e microrganismos que se adaptaram às condições específicas do local. Restaurar não é só recuperar o  
12 que foi perdido, mas também adotar medidas efetivas para reduzir e reverter as alterações que ameaçam a  
13 integridade e a resiliência dos ecossistemas naturais. A restauração de ambientes parte do princípio que  
14 devemos recompor, em primeiro lugar, o solo e as plantas, já que esses componentes garantem a base da cadeia  
15 alimentar. A partir disso, se espera que o efeito dominó aconteça, já que as espécies incorporadas ao sistema  
16 geram condições para a chegada de outras espécies, sejam de animais ou plantas, aumentando a biodiversidade.  
17 Do ponto de vista local, ter ecossistemas restaurados e funcionais garante o fornecimento de vários serviços  
18 ambientais. Entre eles está o controle da erosão, que evita o assoreamento de rios e baixadas e o surgimento  
19 de voçorocas – grandes rachaduras na superfície –, vitais para redução de enchentes e deslizamentos. Em escala  
20 regional, o restabelecimento da vegetação natural ajuda a amenizar a temperatura local, melhorando o  
21 microclima e a infiltração de água no solo, o que contribui para maior perenidade de águas nos rios e maior  
22 controle de inundações. A atividade de restauração também melhora a polinização, processo importante para  
23 a manutenção de culturas agrícolas, na produção de alimentos e controle de pragas. Por fim, em escala global,  
24 o crescimento das árvores em plantios de restauração acelera a remoção de gás carbônico da atmosfera e o  
25 acúmulo de biomassa, ajudando no controle das mudanças climáticas.

<https://revista.galileu.globo.com/colunistas/tnc-brasil/coluna/2024/06/>

03. De acordo com o texto citado acima, a extração de florestas tropicais pode resultar em:
- Controle de pragas e poluentes e proliferação de espécies invasoras.
  - Aumento de temperatura em escala local e global.
  - Aumento das chuvas causando a seca.
  - Controle das chuvas e proliferação de espécies invasoras.
04. “Mas argumentos para isso não faltam há muito tempo: só nos últimos cinco anos (...)”. O termo “MAS” utilizado na segunda linha do texto, apresenta o sentido de:
- Ideia totalmente contrária a todas as informações citadas na oração anterior.
  - Ideia auxiliar, pois só é compreendido a oração com a ajuda da segunda.
  - Ideia contrária, porém, complementar a situação citada na primeira oração.
  - Ideia subordinativa, pois a segunda oração depende completamente da segunda.
05. No texto citado, “Restauração de ecossistemas é a chave do combate às mudanças climáticas” é apontada uma visão do termo **restaurar**, que significa:
- Adotar medidas firmes e replantar uma área.
  - Não só replantar uma área, mas replantar e reutilizar.
  - Recuperar, adotando novas medidas para a inteireza e resiliência do ecossistema.
  - Recuperar a área para que ela retorne ao que era antes do desmate.
06. Na frase, “**Infelizmente**, restaurar um sistema não é tão simples quanto degradá-lo”. O termo “**INFELIZMENTE**”, pode ser classificado como:
- Adjetivo.
  - Verbo.
  - Substantivo.
  - Advérbio.
07. Complete as frases de acordo com a concordância verbal **correta**:
- \_\_\_\_\_ sala comercial. (Aluga-se/Alugam-se).
  - \_\_\_\_\_ resultados mais excitantes. (Esperava-se/Esperavam-se).
  - \_\_\_\_\_ às poesias o nome de Primeiras Canções. (Deu-se/Deram-se).
- Alugam-se – Esperava-se – Deu-se.
  - Aluga-se – Esperavam-se – Deu-se.



- c) Aluga-se – Espera-se – Deram-se.  
d) Alugam-se – Esperavam-se – Deram-se.

08. Observe a tirinha abaixo e responda:



<https://1.bp.blogspot.com/>

A expressão “**por aquilo que veem**”, apresentada no primeiro quadrinho, gramaticalmente, pode ser classificada como:

- a) Complemento do verbo apaixonam.  
b) Termo coordenado.  
c) Expressão subordinada a “mulheres se apaixonam pelo que ouvem”.  
d) Não possui conexão com apaixonam.
09. Complete as frases a seguir e marque a opção **correta**, de acordo com a concordância verbal.

- I. \_\_\_\_\_ três horas no relógio da sala. (Deu/Deram).  
II. \_\_\_\_\_ quatro horas o relógio da cozinha. (Deu/Deram).

- a) Deu – Deram.  
b) Deram – Deram.  
c) Deram – Deu.  
d) Deu – Deu.

10. Na frase “Essa música, tão linda, quem **a** compôs?”. O termo destacado, “**a**”, exerce a função sintática de:

- a) Complemento nominal.  
b) Objeto indireto.  
c) Agente da passiva.  
d) Objeto direto.

### RACIOCÍNIO LÓGICO MATEMÁTICO

11. Um sistema de segurança inteligente utiliza três sensores (A, B e C) para detectar intrusos. O sistema aciona o alarme apenas se o sensor A detectar movimento e pelo menos um dos outros sensores (B e C) também detectar movimento. Assinale a alternativa que representa **corretamente** a proposição composta que descreve o acionamento do alarme.

- a)  $(A \wedge B) \vee (A \wedge C)$ .  
b)  $A \wedge (B \vee C)$ .  
c)  $(A \vee B) \wedge (A \vee C)$ .  
d)  $A \rightarrow (B \vee C)$ .



12. Um grupo de amigos decidiu dividir a conta de um restaurante. Se cada um pagasse R\$ 50, faltariam R\$ 30 para cobrir o valor total. No entanto, se cada um pagasse R\$ 60, sobrariam R\$ 20. Com base nessas informações, assinale a alternativa que indica **corretamente** o número de amigos no grupo.
- a) 4.
  - b) 5.
  - c) 6.
  - d) 7.
13. Em uma fábrica, 3 máquinas idênticas produzem 600 peças em 4 horas. Devido a um aumento na demanda, a fábrica adquiriu mais 2 máquinas idênticas às anteriores. Assinale a alternativa que apresenta **corretamente** quantas peças serão produzidas por todas as máquinas em 6 horas de funcionamento.
- a) 1800.
  - b) 1500.
  - c) 1350.
  - d) 1650.
14. Um produto sofreu dois aumentos sucessivos de 20% e 30%. Para retornar ao preço original, assinale a alternativa que apresenta **corretamente** o valor aproximado do desconto único necessário, expresso em porcentagem:
- a) 36%.
  - b) 44%.
  - c) 48%.
  - d) 50%.
15. Uma urna contém 5 bolas vermelhas, 3 bolas azuis e 2 bolas verdes. São retiradas, sucessivamente e sem reposição, duas bolas da urna. Assinale a alternativa que apresenta **corretamente** a probabilidade de que a primeira bola seja vermelha e a segunda seja azul.
- a)  $1/6$ .
  - b)  $1/5$ .
  - c)  $3/20$ .
  - d)  $3/10$ .

### HISTÓRIA DO MUNICÍPIO

16. Acerca da evolução histórica administrativa do Município que hoje conhecemos como Fortim, analise as seguintes afirmações, marcando **V** para as verdadeiras e **F** para as falsas.
- I. ( ) Originalmente foi distrito do Município de Beberibe.
  - II. ( ) Quando distrito, inicialmente chamava-se de Canoé, passando posteriormente a ser chamado de Fortinho, e depois, Fortim.
  - III. ( ) Foi elevado à categoria de Município em 1922, desmembrando-se de Beberibe.
- a) V – V – V.
  - b) F – V – V.
  - c) F – V – F.
  - d) F – F – F.
17. Analisando a história de Fortim, podemos observar que teve início com as expedições Portuguesas para desbravar os territórios no então Estado do Brasil, nos séculos XVI e XVII. Nesse contexto, quem foi o explorador português enviado para desbravar os territórios das capitanias da Paraíba, Sergipe, Rio Grande do Norte e Ceará, nos séculos XVI e XVII?
- a) Antônio Cardoso de Barros.
  - b) Pero Vaz de Caminha.
  - c) Pedro Álvares Cabral.
  - d) Pero Coelho de Sousa.



18. Em Fortim atravessa um rio que faz parte da memória de imagem da cidade e do Ceará. Pessoas que nunca o viram, já ouviram falar sobre ele devido a sua presença em músicas, poesias, literatura, tradição e pela sua importância para o sertão cearense. Qual rio é o objeto desta questão?
- a) Coreaú.
  - b) Cocó.
  - c) Pajeú.
  - d) Jaguaribe.
19. Marque a alternativa que apresenta somente distritos do Município de Fortim.
- a) Barra, Campestre, Guajiru.
  - b) Tapuio, Barra, Maceió.
  - c) Guajiru, Telha, Viçosa.
  - d) Campestre, Viçosa, Cumbe.
20. Observe o seguinte trecho do hino do Município de Fortim:

“Num pedaço do nosso Brasil  
Tu estás imponente a crescer  
Do teu nome se faz a história  
Que o povo jamais vai esquecer.”

Hino do município de Fortim  
(Disponível em <https://fortim.ce.gov.br/simbolos.php>)

Quem foi a pessoa responsável pela criação da letra do Hino do Município de Fortim?

- a) Chiquinha Gonzaga.
- b) Joaquim Osório Duque-Estrada.
- c) José Prophyrio da Paz.
- d) Aldenizia Barbosa de Lima.

### CONHECIMENTOS ESPECÍFICOS

21. As vias urbanas são classificadas em diferentes categorias, que desempenham funções específicas na mobilidade dentro das cidades. Quais das opções a seguir classificam **corretamente** as vias urbanas?
- a) Vias de trânsito rápido, Vias coletoras e Rodovias.
  - b) Vias coletoras, Vias arteriais e Estradas.
  - c) Vias de trânsito rápido, Rodovias e Vias locais.
  - d) Vias locais, Vias arteriais, Vias de trânsito rápido e Vias coletoras.
22. Assinale a alternativa que contenha as características de uma rodovia.
- a) São vias pavimentadas. Velocidade máxima onde não há placa de sinalização: 110 km/h para automóveis, camionetas e motocicletas (Lei Nº 10.830/03); 90km/h para ônibus e micro-ônibus e 80km/h para demais veículos.
  - b) São vias não pavimentadas. Velocidade máxima onde não há placa de sinalização: 60km/h para todos os veículos.
  - c) Destinadas apenas ao acesso local ou a áreas restritas. Velocidade máxima onde não há placa de sinalização: 30km/h para todos os veículos.
  - d) Não possuem cruzamentos diretos, semáforos, nem travessia de pedestres. Velocidade máxima onde não há placa de sinalização: 80km/h para todos os veículos.
23. As normas de circulação têm como objetivo regular o comportamento dos usuários das vias terrestres, com foco principal no ser humano. Essa temática é abordada no Capítulo III do Código de Trânsito Brasileiro. Com base nisso, quais diretrizes os usuários das vias terrestres devem seguir para garantir a segurança e a fluidez do trânsito?



- a) Perder o domínio de seu veículo, afinal, todo condutor em algum momento já passou ou passará por esta situação.
- b) Envolver-se em todo ato que possa constituir perigo ou obstáculo para o trânsito de veículos, de pessoas ou de animais, ou ainda causar danos a propriedades públicas ou privadas.
- c) Abster-se de obstruir o trânsito ou torná-lo perigoso, seja atirando, depositando ou abandonando na via objetos ou substâncias, ou nela criando qualquer outro obstáculo.
- d) Deixar de verificar a existência e as boas condições de funcionamento dos equipamentos de uso obrigatório.

24. Sobre as normas gerais de circulação e conduta, analise as seguintes afirmações, marcando **V** para as verdadeiras e **F** para as falsas.

- I. ( ) A circulação far-se-á pelo lado direito da via, admitindo-se as exceções devidamente sinalizadas.
- II. ( ) A faixa da esquerda é reservada para o deslocamento de veículos em maior velocidade e ultrapassagens.
- III. ( ) Os veículos que estiverem em efetivo serviço de urgência, com alarme sonoro e iluminação vermelha ligados, terão prioridade de trânsito, livre circulação, estacionamento e parada.
- IV. ( ) O condutor deverá manter distância de segurança lateral e frontal entre o seu e os demais veículos, bem como em relação ao bordo da pista, considerando-se, no momento, a velocidade e as condições do local, da circulação, do veículo e as condições climáticas.
- V. ( ) Os veículos maiores e mais pesados deverão ocupar a faixa da direita.

Marque a alternativa que apresenta a sequência **correta**.

- a) F – V – F – V – F.
- b) V – V – V – V – V.
- c) V – F – V – F – V.
- d) V – V – F – F – V.

25. O uso de luzes em veículos é regulado pelo Código de Trânsito Brasileiro, assinale a alternativa que apresenta **corretamente** uma ou mais dessas determinações.

- a) Nas vias não iluminadas o condutor deve usar luz alta, inclusive ao cruzar com outro veículo ou ao segui-lo.
- b) O condutor manterá apagadas pelo menos as luzes de posição do veículo quando sob chuva forte, neblina ou cerração.
- c) A troca de luz baixa e alta, de forma intermitente e por curto período, com o objetivo de advertir outros motoristas, só poderá ser utilizada para identificar a intenção de ultrapassar o veículo que segue à frente ou para indicar a existência de risco à segurança para os veículos que circulam no sentido contrário.
- d) Durante a noite, em circulação, o condutor manterá apagada a luz de placa.

26. Os condutores de motocicletas, motonetas e ciclomotores só poderão circular nas vias:


- a) Utilizando capacete de segurança, com ou sem viseira e óculos protetores.
- b) Segurando o guidom com uma das mãos.
- c) Utilizando qualquer tipo de calçado, independente do modelo.
- d) Usando vestuário de proteção, de acordo com as especificações do CONTRAN.

27. Acerca das principais regras para condutores de veículos automotor, assinale a alternativa **incorreta**.

- a) Quando necessário, fazer arrancadas bruscas para evitar colisões.
- b) Usar sempre o cinto de segurança.
- c) Manter distância regulamentar dos outros veículos e velocidade compatível.
- d) Portar a documentação obrigatória do condutor e do veículo dentro da validade.

28. Sobre estacionamento e parada, assinale a alternativa **correta**.

- a) Parada é a imobilização do veículo por tempo superior ao de embarque e desembarque de passageiros.



- b) Quando proibido o estacionamento na via, a parada deverá restringir-se ao tempo indispensável para embarque ou desembarque de passageiros, desde que não interrompa ou perturbe o fluxo de veículos ou a locomoção de pedestres.
- c) Estacionamento é caracterizado pela imobilização momentânea do veículo na via somente para embarque e desembarque de passageiros.
- d) O embarque e o desembarque devem ocorrer sempre do lado da calçada, inclusive para o condutor.

29. De acordo com as regras de sinalização, faça a associação e assinale a alternativa que apresenta a sequência **correta**.

- ( 1 ) Sinalização de Regulamentação.
- ( 2 ) Sinalização de Advertência.
- ( 3 ) Sinalização de Indicação.
- ( ) Têm por finalidade alertar aos usuários da via as condições potencialmente perigosas, indicando sua natureza. A forma padrão é quadrada, devendo uma das diagonais ficar na posição vertical, nas seguintes cores: fundo amarelo, orla interna preta, orla externa amarela e símbolo e/ou legenda pretos.
- ( ) Têm a finalidade de comunicar aos usuários as condições, proibições, restrições ou obrigações no uso da via. Suas mensagens são imperativas, e o desrespeito a ela constitui infração. A forma padrão é a circular, nas seguintes cores: fundo branco, tarja vermelha, orla vermelha, símbolo preto e letras pretas.
- ( ) Têm por finalidade mostrar as vias, os destinos e os locais de interesse; orientar condutores de veículos quanto aos percursos, destinos, distâncias e serviços auxiliares, podendo também educar o usuário. Suas mensagens são informativas ou educativas.

- a) 3, 2 e 1.
- b) 1, 3 e 2.
- c) 2, 1 e 3.
- d) 3, 1 e 2.


30. Sobre sinalização horizontal, assinale a alternativa **incorreta**.

- a) Esse tipo de sinalização viária se caracteriza por utilizar linhas, marcações, símbolos e legendas, pintados ou apostos sobre o pavimento das vias.
- b) Têm como função organizar o fluxo de veículos e pedestres; controlar e orientar os deslocamentos em situações com problemas de geometria, topografia ou frente a obstáculos; complementar os sinais verticais de regulamentação, advertência ou indicação.
- c) Em casos específicos, têm poder de regulamentação.
- d) É formada também por placas, fixadas ao lado ou suspensas sobre a pista, que transmitem mensagens de perfil permanente.

31. Com relação aos tipos de penalidades previstos no CTB (Código de Trânsito Brasileiro), analise as afirmações, marcando **V** para as verdadeiras e **F** para as falsas.

- I. ( ) Advertência por escrito: é considerada uma punição “educativa”, utilizada somente nos casos de infrações leves ou médias. Se penalizado dessa forma, o condutor recebe uma notificação por escrito e não terá pontos na carteira ou multas a pagar. Em alguns casos, os condutores solicitam que as multas aplicadas sejam convertidas em advertências.
- II. ( ) Multas: com exceção das advertências por escrito, as multas acompanham todas as outras penalidades e têm o valor definido de acordo com a infração cometida. As infrações leves geram uma multa de R\$ 88,38; as infrações médias causam multas de R\$ 130,16; as infrações graves, por sua vez, geram multas de R\$ 195,23; e as infrações gravíssimas, de R\$ 293,47 (sem os fatores multiplicadores).
- III. ( ) Suspensão do direito de dirigir ou cassação da permissão para dirigir: essas são algumas das penalidades mais temidas pelos condutores. Se a permissão para dirigir é cassada, o condutor deve reiniciar o processo para tirar uma nova habilitação. Para os casos em que houve suspensão do direito de dirigir (CNH definitiva), o prazo dessa suspensão pode variar entre um mês ou um ano, dependendo da infração e da reincidência (ou não) do condutor.





IV. ( ) Apreensão do veículo: essas penalidades fazem com que o veículo seja recolhido e levado a um depósito homologado pelo DETRAN, o que gera custos de “estadia” para o condutor. É importante ressaltar que, se o condutor não buscar o seu veículo em até noventa dias, esse automóvel poderá ir a leilão.

- a) V – F – V – F.
- b) V – V – V – V.
- c) F – V – F – V.
- d) F – F – F – F.

32. Sobre Direção Defensiva, assinale a alternativa **correta**.

- a) Levando em consideração que muitas infrações são causadas por falhas humanas decorrentes de negligência, imprudência ou imperícia, a direção defensiva é um conjunto de medidas de prevenção que tem por objetivo diminuir acidentes e suas consequência no trânsito.
- b) São os vícios de direção que são adquiridos ao longo do tempo, onde cada motorista vai se moldando no trânsito de acordo com o que for melhor para sua conduta.
- c) Arriscar ultrapassagens em locais proibidos, realizar manobras perigosas, aproveitar o sinal vermelho e deixar de usar sinalização são alguns exemplos de condutas para a direção defensiva.
- d) Respeitar as placas, manter a calma, se informar sobre as vias e trajetos antes de sair de casa e a manutenção periódica e preventiva do veículo são ações que não condizem com a direção defensiva.

33. Se todos soubessem noções básicas de primeiros socorros muitas vidas poderiam ser salvas. O objetivo dos Primeiros Socorros é de manter o paciente com vida ou até a chegada de socorro médico apropriado ou até que o ferido chegue até um local onde possa ser dado o devido atendimento. É importante mencionar que a prestação de primeiros socorros não deve ser um ato que comprometa a sua vida ou a vida do paciente e, logicamente, não exclui a importância de um médico. Sobre noções básicas de primeiros socorros, assinale a alternativa **incorreta**.

- a) Limpe as mãos com água e sabão, se possível utilize uma luva. Lave o ferimento com água, desinfete com água oxigenada. Se houver algum corpo estranho (caco de vidro, farpa, espinho, etc.) remova-o com a pinça apenas se o objeto foi pequeno e se puder fazê-lo com facilidade, se não, deixe esta tarefa para o médico.
- b) O socorrista de uma vítima com entorse deve imobilizar a articulação afetada como no caso de uma fratura, e pode colocar gelo ou compressas frias no local antes da imobilização. Podemos também imobilizar a articulação através de enfaixamento, usando ataduras ou lenços.
- c) Muitas vezes a pessoa que leva um choque elétrico fica presa à corrente elétrica, o ideal então é fazer a remoção imediata da vítima.
- d) Havendo hemorragia externa, faz-se a compressão da área afetada e elevação de membro. Ao contrário do que vemos em muitos filmes não se deve aplicar nenhuma forma de torniquete, a exceção é apenas quando um membro é amputado ou esmagado.

34. Analise as seguintes afirmações sobre o que fazer em casos de acidentes na via, marcando **V** para as verdadeiras e **F** para as falsas.

- I. ( ) Em caso de acidente de viação deve-se colocar o triângulo de sinalização num local bem visível e usar o colete de sinalização.
- II. ( ) Dominar rapidamente a situação e prevenir perigos mortais.
- III. ( ) Afastar os feridos dos locais onde estes possam correr perigo (ex. estradas, fogo). Quando não for estritamente necessário nunca se deverá mover um ferido.
- IV. ( ) Caso haja necessidade de chamar uma ambulância, faça imediatamente, mesmo que para isso o ferido tenha que ficar sozinho.
- V. ( ) Devem verificar-se o tipo e importância das lesões, controlar o pulso e a respiração do ferido.

- a) F – F – V – F – F.
- b) V – V – V – V – F.
- c) F – V – V – V – F.
- d) V – V – V – F – V.



35. Conduzir veículo sem os documentos de porte obrigatório (CNH e CRLV) caracteriza:
- a) Infração Grave.
  - b) Infração Leve.
  - c) Infração Gravíssima.
  - d) Infração Média.
36. Conduzir um veículo com a categoria da habilitação incorreta, caracteriza:
- a) Infração Grave.
  - b) Infração Gravíssima + recolhimento da habilitação e retenção do veículo.
  - c) Infração Gravíssima + retenção do veículo até a apresentação de condutor habilitado com fator multiplicador 2x.
  - d) Infração Grave + recolhimento do documento de habilitação e retenção do veículo com fator multiplicador 2x.
37. Por onde os gases gerados pelo motor são eliminados?
- a) Pelo escapamento.
  - b) Pelo radiador.
  - c) Pelo próprio motor.
  - d) Pelo exaustor.
38. Quais consequências podem ocorrer devido à falta de balanceamento nas rodas de um veículo? Assinale a alternativa **incorreta**.
- a) Vibração no volante.
  - b) Desgaste irregular dos pneus.
  - c) Instabilidade na direção.
  - d) Falta de óleo no veículo.
39. Sobre o Certificado de Registro e Licenciamento de Veículo (CRLV), quando deve ser renovado:
- a) Somente quando o veículo é vendido.
  - b) Anualmente.
  - c) A cada dois anos.
  - d) A cada seis meses.
40. Marque a alternativa **correta** sobre o seguro DPVAT.
- a) É o seguro obrigatório de danos pessoais causados por veículos automotores de vias terrestres, ou por sua carga, a pessoas transportadas ou não (Seguro DPVAT), com a finalidade de amparar as vítimas de acidentes de trânsito em todo o território nacional brasileiro, não importando de quem seja a culpa dos acidentes.
  - b) É um seguro que indeniza vítimas de acidentes causados por veículos, barcos, trens e aeronaves.
  - c) É de contratação facultativa por todos os proprietários de veículos, em função de sua simples existência ou utilização.
  - d) O DPVAT é também chamado de "seguro obrigatório", no qual deve ser pago pelo proprietário do veículo uma única vez, em seu primeiro licenciamento.