



**PROVA OBJETIVA
CONCURSO PÚBLICO**

Nível

Fundamental Completo


Cargo

Vigia

ORIENTAÇÕES

VERIFIQUE ATENTAMENTE SE ESTE CADERNO:

- ❖ Contém 40 (quarenta) questões, numeradas de 01 a 40, caso contrário reclame ao fiscal da sala outro caderno. NÃO serão aceitas reclamações posteriores.
- ❖ Para cada questão existe apenas **UMA** resposta certa.
- ❖ Você deve ler cuidadosamente cada uma das questões e escolher a resposta certa.
- ❖ A alternativa escolhida deve ser marcada no CARTÃO RESPOSTA que você recebeu.
- ❖ Procurar no CARTÃO RESPOSTA, o número da questão que você está respondendo.
- ❖ Verificar no caderno de prova qual a letra (A, B, C ou D) da resposta que você escolheu.
- ❖ A opção escolhida pelo candidato deverá, **obrigatoriamente**, ser marcada no CARTÃO RESPOSTA, cobrindo todo o círculo, conforme exemplo meramente ilustrativo abaixo:



- ❖ Marque as respostas com caneta esferográfica de material transparente, com tinta na cor azul ou preta.
- ❖ No cartão resposta, marque apenas uma letra para cada questão, mais de uma letra assinalada implicará em nota zero à questão.
- ❖ Não será permitida qualquer espécie de consulta, nem o uso de máquina calculadora.
- ❖ Você terá 04 (quatro) horas para responder a todas as questões e preencher o CARTÃO RESPOSTA.
- ❖ Não será possível a substituição do CARTÃO RESPOSTA.
- ❖ Dirija-se ao fiscal de maneira respeitosa.
- ❖ O CARTÃO RESPOSTA, único e personalizado, é o instrumento exclusivo, para efeito de correção das provas, não sendo permitido rasuras e/ou utilização de corretivos, sob pena de anulação da questão.
- ❖ O(a) candidato(a) deverá, **obrigatoriamente, assinar o CARTÃO RESPOSTA**, sob pena de ser eliminado(a) do Concurso Público.
- ❖ **Obrigatoriamente**, os 03 (três) últimos candidatos deverão permanecer na sala para testemunhar juntamente com os fiscais e coordenador o lacre das provas.

ATENÇÃO: Transcreva no espaço apropriado do seu **CARTÃO-RESPOSTA**, com sua caligrafia usual, levando em consideração a variação entre letras maiúsculas e minúsculas, a frase a seguir:

Educação é a chave do sucesso.



LÍNGUA PORTUGUESA

O pavão, Rubem Braga

1 Eu considerei a glória de um pavão ostentando o esplendor de suas cores; é um luxo imperial. Mas andei
2 lendo livros; e descobri que aquelas cores todas não existem na pena do pavão. Não há pigmentos. O que há
3 são minúsculas bolhas d'água em que a luz se fragmenta, como em um prisma. O pavão é um arco-íris de
4 plumas. Eu considerei que este é o luxo do grande artista, atingir o máximo de matizes com o mínimo de
5 elementos. De água e luz ele faz seu esplendor; seu grande mistério é a simplicidade. Considerei, por fim, que
6 assim é o amor, oh! minha amada; de tudo que ele suscita e espande e estremece e delira em mim existem
7 apenas meus olhos recebendo a luz de teu olhar. Ele me cobre de glórias e me faz magnífico.

01. De acordo com a leitura realizada do texto acima, o grande mistério e esplendor do pavão, segundo o autor, é:
- a) As bolhas d'água.
 - b) A luz do olhar.
 - c) A simplicidade.
 - d) Luxo imperial.
02. Na frase, “Eu considerei que este é o luxo do grande artista, **atingir** o máximo de matizes com o mínimo de elementos.” O termo em destaque “**ATINGIR**”, pode ser classificado, neste contexto, como:
- a) Adjetivo.
 - b) Verbo no infinitivo.
 - c) Verbo no gerúndio.
 - d) Substantivo.
03. Leia-se, “O que **há são** minúsculas bolhas d'água em que a luz se fragmenta”, as palavras destacadas, “**HÁ SÃO**”, podem ser classificadas gramaticalmente, como:
- a) Verbos.
 - b) Locução verbal.
 - c) Adjetivos.
 - d) Conjunções.
04. Analise a ilustração abaixo:



<https://professoracurtaulaparticular.blogspot.com>

O verbo “**joga**”, que aparece no primeiro balão, está no modo:

- a) Subjuntivo.
- b) Indicativo.
- c) Imperativo.
- d) Superlativo.



Outro de Elevador, Luís Fernando Veríssimo

1 "Ascende" dizia o ascensorista. Depois: "Eleva-se". "Para cima". "Para o alto". "Escalando". Quando
2 perguntavam "Sobe ou desce?" respondia "A primeira alternativa". Depois dizia "Descende", "Ruma para
3 baixo", "Cai controladamente", "A segunda alternativa"... "Gosto de improvisar", justificava-se. Mas como
4 toda arte tende para o excesso, chegou ao preciosismo. Quando perguntavam "Sobe?" respondia "É o que
5 veremos..." ou então "Como a Virgem Maria". Desce? "Dei" Nem todo o mundo compreendia, mas alguns o
6 instigavam. Quando comentavam que devia ser uma chatice trabalhar em elevador ele não respondia "tem seus
7 altos e baixos", como esperavam, respondia, criticamente, que era melhor do que trabalhar em escada, ou que
8 não se importava embora o seu sonho fosse, um dia, comandar alguma coisa que andasse para os lados... E
9 quando ele perdeu o emprego porque substituíram o elevador antigo do prédio por um moderno, automático,
10 daqueles que têm música ambiental, disse: "Era só me pedirem — eu também canto!"

05. Qual profissão é citada e discutida ao longo do texto acima entre os personagens?

- a) Porteiro.
- b) Ascensorista.
- c) Recepcionista.
- d) Garçon.

06. A palavra “**preciosismo**”, citada na quarta linha do texto acima, neste caso, significa:

- a) Sofisticação.
- b) Velhice.
- c) Mesmice.
- d) Precioso.

07. Complete as palavras abaixo de acordo com a grafia correta do S, SS, C e Ç.

- I. _____elva.
- II. Submer_____o.
- III. Omi_____o.

- a) Celva – Submerso - Omisso.
- b) Selva – Submerço – Omiço.
- c) Selva – Submerso – Omisso.
- d) Celva – Submerço – Omiço.

08. Na frase “O tecido **azul-celeste** parece ser macio”. Nesse contexto, o termo “**azul-celeste**”, pode ser classificado gramaticalmente como:

- a) Adjetivo composto.
- b) Substantivo composto.
- c) Adjetivo simples.
- d) Substantivo simples.

09. Complete as palavras abaixo de acordo com o uso correto do **G** e **J**.

- I. Verti___em.
- II. Lison___ear.
- III. Abran___er.
- IV. Tra___e.

- a) Vertigem – Lisongear – Abranjer – Traje.
- b) Vertijem – Lisonjear – Abranger – Trage.
- c) Vertigem – Lisonjear – Abranger – Traje.
- d) Vertigem – Lisonjear – Abranjer – Traje.



10. Analise a charge abaixo:



<https://paulo-matheus.blogspot.com/2013/02/30-tirinhas-snoopy.html>

No primeiro quadro da tirinha é citado, “Se **estivesse** no comando do mundo, mudaria tudo!”, o termo em destaque “**ESTIVESSE**”, é uma conjugação do verbo:

- a) Ter.
- b) Estar.
- c) Haver.
- d) Tiver.

CONHECIMENTOS MATEMÁTICOS


11. Em uma pesquisa sobre hábitos de leitura, 60 pessoas afirmaram ler jornais, 50 pessoas afirmaram ler revistas e 40 pessoas afirmaram ler livros. Além disso, 20 pessoas leem jornais e revistas, 15 pessoas leem jornais e livros, 10 pessoas leem revistas e livros e 5 pessoas leem os três. Assinale a alternativa que apresenta **corretamente** o número total de pessoas entrevistadas nessa pesquisa.
- a) 95.
 - b) 90.
 - c) 100.
 - d) 110.
12. Seja A o conjunto dos números naturais múltiplos de 3 e menores que 30, e B o conjunto dos números naturais pares e menores que 20. Assinale a alternativa que apresenta **corretamente** o conjunto A - B (diferença entre A e B).
- a) {3, 9, 15, 21, 24, 27}.
 - b) {3, 9, 15, 21}.
 - c) {6, 12, 18}.
 - d) {1, 3, 5, ..., 19}.
13. Um comerciante comprou um lote de mercadorias por R\$ 5.000,00 e deseja revendê-las com um lucro de 30% sobre o preço de custo. Durante uma promoção, ele decide dar um desconto de 10% sobre o preço de venda. Assinale a alternativa que apresenta **corretamente** o preço final de venda de cada mercadoria após o desconto.
- a) R\$ 6.000,00.
 - b) R\$ 5.850,00.
 - c) R\$ 6.500,00.
 - d) R\$ 6.850,00.



14. Um número é dividido por 5, e o resultado dessa divisão é multiplicado por 3. Em seguida, somamos 7 ao resultado da multiplicação, obtendo o valor final de 22. Assinale a alternativa que apresenta **corretamente** o número original.
- a) 10.
 - b) 15.
 - c) 20.
 - d) 25.
15. Um reservatório de água tem capacidade para 10.000 litros. Inicialmente, ele está com 25% de sua capacidade. Após uma chuva forte, o nível subiu para 75% da capacidade total. Assinale a alternativa que apresenta **corretamente** quantos litros de água foram adicionados ao reservatório pela chuva.
- a) 2.500 litros.
 - b) 3.500 litros.
 - c) 5.000 litros.
 - d) 6.000 litros.

HISTÓRIA DO MUNICÍPIO

16. Acerca da evolução histórica administrativa do Município que hoje conhecemos como Fortim, analise as seguintes afirmações, marcando **V** para as verdadeiras e **F** para as falsas.
- I. () Originalmente foi distrito do Município de Beberibe.
 - II. () Quando distrito, inicialmente chamava-se de Canoé, passando posteriormente a ser chamado de Fortinho, e depois, Fortim.
 - III. () Foi elevado à categoria de Município em 1922, desmembrando-se de Beberibe.
- a) V – V – V.
 - b) F – V – V.
 - c) F – V – F.
 - d) F – F – F.
17. Analisando a história de Fortim, podemos observar que teve início com as expedições Portuguesas para desbravar os territórios no então Estado do Brasil, nos séculos XVI e XVII. Nesse contexto, quem foi o explorador português enviado para desbravar os territórios das capitanias da Paraíba, Sergipe, Rio Grande do Norte e Ceará, nos séculos XVI e XVII?
- a) Antônio Cardoso de Barros.
 - b) Pero Vaz de Caminha.
 - c) Pedro Álvares Cabral.
 - d) Pero Coelho de Sousa.
18. Em Fortim atravessa um rio que faz parte da memória de imagem da cidade e do Ceará. Pessoas que nunca o viram, já ouviram falar sobre ele devido a sua presença em músicas, poesias, literatura, tradição e pela sua importância para o sertão cearense. Qual rio é o objeto desta questão?
- a) Coreaú.
 - b) Cocó.
 - c) Pajeú.
 - d) Jaguaribe.
19. Marque a alternativa que apresenta somente distritos do Município de Fortim.
- a) Barra, Campestre, Guajiru.
 - b) Tapuío, Barra, Maceió.
 - c) Guajiru, Telha, Viçosa.
 - d) Campestre, Viçosa, Cumbe.



20. Observe o seguinte trecho do hino do Município de Fortim:

“Num pedaço do nosso Brasil
Tu estás imponente a crescer
Do teu nome se faz a história
Que o povo jamais vai esquecer.”

Hino do município de Fortim
(Disponível em <https://fortim.ce.gov.br/simbolos.php>)

Quem foi a pessoa responsável pela criação da letra do Hino do Município de Fortim?

- a) Chiquinha Gonzaga.
- b) Joaquim Osório Duque-Estrada.
- c) José Prophyrio da Paz.
- d) Aldenizia Barbosa de Lima.

CONHECIMENTOS ESPECÍFICOS

21. Marque a alternativa que cita **corretamente** o conceito mais adequado em relação à segurança do trabalho.

- a) Consiste em um conjunto de conhecimentos técnicos para oferecer um ambiente de trabalho insalubre.
- b) Conjunto de normas e regras que o funcionário só segue se ele quiser.
- c) Consiste em um conjunto de conhecimentos técnicos e normas específicas que auxiliam na redução de risco de acidentes e da ocorrência de doenças ocupacionais.
- d) Conjunto de normas e regras elaborado para aumentar a produtividade da equipe.

22. Selecione o item que **não** consiste em uma atuação da segurança do trabalho.

- a) Prevenção de acidentes.
- b) Prevenção de incêndios.
- c) Promoção da saúde dos trabalhadores.
- d) Prevenção para a motivação ao trabalho.

23. Com base nos conhecimentos sobre segurança do trabalho, assinale a alternativa **incorreta**.

- a) O acidente de trabalho ocorre quando o trabalhador sofre uma lesão corporal durante ou em razão do exercício da atividade, sofrendo alguma perturbação funcional que envolva a perda, redução permanente ou temporária da capacidade de trabalho. Em casos mais extremos pode ocorrer a morte do profissional.
- b) A prevenção de acidentes exige uma postura responsável por parte somente do funcionário, que deverá atuar de forma a melhorar as relações de trabalho e, com isso, aumentar a produtividade da equipe.
- c) O chamado "acidente de percurso" ou "acidente de trajeto" pode ser equiparado a um acidente de trabalho, quando ocorre durante o deslocamento casa-trabalho ou trabalho-casa e se enquadra nos requisitos legais.
- d) Para caracterizar o acidente de trabalho, é preciso que o funcionário esteja fazendo o percurso normal de trabalho dentro do tempo em que geralmente é executado.

24. O vigia é um profissional que pode atuar em diversos tipos de estabelecimentos, como edifícios residenciais, comerciais e industriais, hotéis, dentre outros. Independente do seu posto é primordial colocar a segurança em primeiro lugar. Com base nessas informações assinale a alternativa **correta**.

- a) Para manter a segurança do trabalho não é preciso que o vigia permaneça junto a entrada do estabelecimento.
- b) O vigia deve evitar realizar qualquer outra tarefa que possa comprometer o monitoramento e a proteção dos trabalhadores.



- c) O vigia deve observar o trabalho que está sendo feito por outros trabalhadores para identificar riscos e acidentes.
- d) É de responsabilidade do vigia fazer salvamentos e ordenar que os trabalhadores abandonem o espaço em caso de riscos.
25. Selecione o item que melhor conceitua Equipamento de Proteção Individual (EPI).
- a) Refere-se somente ao fardamento adequado para o vigia.
- b) Conjunto de ferramentas usadas no exercício somente do cargo de vigia.
- c) Dispositivo ou produto fornecido obrigatoriamente pelo próprio funcionário para o uso em sua atuação.
- d) Todo dispositivo ou produto, de uso individual utilizado pelo trabalhador, destinado a proteção contra riscos capazes de ameaçar a sua segurança e a sua saúde.
26. Qual dos itens abaixo **não** apresenta um tipo de EPI.
- a) Proteção auditiva: abafadores de ruídos ou protetores auriculares.
- b) Proteção da cabeça: chapéus e bonés.
- c) Proteção visual e facial: óculos de proteção e viseiras.
- d) Proteção de pernas e pés: sapatos, botas e botinas.
27. Sobre EPI, cabe ao empregador as seguintes obrigações, assinale a **incorreta**.
- a) Adquirir o EPI adequado ao risco de cada atividade.
- b) Orientar e treinar o trabalhador sobre o uso adequado, guarda e conservação.
- c) Exigir o uso dos equipamentos não é obrigação do empregador, os funcionários já precisam saber da importância.
- d) Substituir imediatamente o EPI, quando danificado ou extraviado.
28. Selecione a opção que apresenta exemplo de relação saudável dentro do ambiente de trabalho.
- a) São aquelas que apresentam equilíbrio. Mesmo que haja um atrito, a equipe possui uma “liga” forte o suficiente entre si para avaliar o atrito de maneira objetiva, resolvê-lo e retornar a um estado de harmonia.
- b) Um ambiente onde prevalece a individualidade, com cada membro agindo de forma isolada, sem colaboração ou apoio mútuo.
- c) Misturar as relações pessoais com profissionais é o segredo, pois assim os funcionários terão mais intimidade e alinhamento no trabalho.
- d) Somente o respeito é suficiente para se manter boas relações interpessoais no trabalho.
29. Referente ao conceito de ética profissional, assinale a alternativa **incorreta**.
- a) Ética profissional é o conjunto de normas que formam a consciência do profissional e representam imperativos de sua conduta.
- b) Ser ético é agir dentro dos padrões convencionais, é proceder bem, é não prejudicar o próximo.
- c) Ser ético implica em respeitar e cumprir os valores e normas estabelecidos pela sociedade em que se vive, contribuindo para a promoção de uma convivência harmoniosa e justa.
- d) O indivíduo que tem ética profissional as vezes descumpra as atividades de sua profissão.
30. A respeito dos fatores importantes que auxiliam a manter a ética, analise as afirmativas abaixo e marque o item **incorreto**:
- a) Falar sempre a verdade e assumir a responsabilidade por suas falhas.
- b) Algumas informações de trabalho são extremamente sigilosas. Respeite esta condição, mantendo o sigilo.
- c) Faltar ao trabalho sempre que preciso, bastando apenas avisar com antecedência.
- d) Cumprir sua função com comprometimento e consciência.
31. Sobre a diferença entre vigia e vigilante, assinale a alternativa **incorreta**.
- a) O vigia não possui porte de arma.
- b) O vigilante não deve usar uniforme quando em efetivo serviço.



- c) A função do vigilante se destina precipuamente a resguardar a vida e o patrimônio das pessoas, exigindo porte de arma e requisitos de treinamento específicos.
- d) O vigia realiza atividades mais simples como a de fiscalização dos locais.

32. Fundamentados nas noções de prevenção de acidentes, assinale o item **incorreto**.

- a) Em toda ocorrência de acidente envolvendo riscos biológicos, com ou sem afastamento do trabalhador, deve ser emitida a Comunicação de Acidente de Trabalho – CAT.
- b) Prevenção e controle de riscos biológicos baseiam-se em conhecimentos de higiene, biossegurança, educação, administração, engenharia e até de legislação.
- c) A adoção de comportamento de segurança abrange formação, educação continuada, supervisão qualificada, organização do trabalho, recursos materiais (incluindo-se os EPIs), profissionais preparados para cuidar de pessoas com doenças infecciosas, além de normas bem claras sobre isolamento e barreiras.
- d) Existem normas para a prevenção de acidentes que esporadicamente podem ser descumpridas, já que o ritmo de trabalho muitas vezes nos tira do foco.

33. Acerca dos primeiros socorros, assinale a alternativa **incorreta**.

- a) Se todos soubessem noções básicas de primeiros socorros muitas vidas poderiam ser salvas.
- b) O objetivo dos primeiros socorros é de manter o paciente com vida ou até a chegada de socorro médico apropriado ou até que o ferido chegue à um local onde possa ser dado o devido atendimento.
- c) Durante a emergência, se preciso for, deixe a vítima sozinha e procure ajuda.
- d) É importante mencionar que a prestação de primeiros socorros não deve ser um ato que comprometa a sua vida ou a vida do paciente e, logicamente, não exclui a importância de um médico.

34. Na ressuscitação cardiopulmonar, **não** constitui em uma postura correta de salvamento o que está descrito no item:


- a) Esse tipo de salvamento só é possível ter êxito com o auxílio de cinco pessoas.
- b) Com a pessoa no chão, coloque uma mão sobre a outra e localize a extremidade inferior do osso vertical que está no centro do peito.
- c) Ao mesmo tempo, uma outra pessoa deve aplicar a respiração boca-a-boca, firmando a cabeça da pessoa e fechando as narinas com o indicador e o polegar, mantendo o queixo levantado para esticar o pescoço.
- d) Enquanto o ajudante enche os pulmões, soprando adequadamente para insuflá-los, pressione o peito a intervalos curtos de tempo, até que o coração volte a bater.

35. Com base nas regras básicas para prevenção de incêndios, analise as afirmações abaixo e marque o item **correto**:

- I. () Mantenha sempre à vista o telefone de emergência do Corpo de Bombeiros – 193.
 - II. () Conserve sempre as caixas de incêndios em perfeitas condições de uso e somente as utilize em caso de incêndio.
 - III. () Os extintores devem estar fixados sempre em locais de fácil acesso, devidamente carregados e revisados periodicamente.
 - IV. () Revisar periodicamente toda a instalação elétrica do prédio, procurando inclusive constatar também a existência de possíveis vazamentos de gases.
 - V. () Evitar o vazamento de líquidos inflamáveis.
 - VI. () Evitar a falta de ventilação.
- a) F – F – V – F – F – V.
 - b) V – V – V – V – V – V.
 - c) V – V – F – V – V – F.
 - d) F – F – F – V – F – F.

36. Não se configura uma norma de segurança no incêndio.

- a) Alarme geral.
- b) Combate ao fogo.



- c) Evacuação da edificação.
d) Material inflamável.
37. Sobre o controle de entrada e saída de veículos em uma frota, assinale a alternativa que apresenta uma afirmação **incorreta**.
- a) Saber quem está usando o veículo, quem já usou, se ele está ou não na empresa, são informações básicas e imprescindíveis para uma gestão de frota eficaz.
b) Se as chaves dos veículos ficam na garagem com algum responsável, pode-se imprimir a planilha e deixar numa prancheta com esse responsável pelo controle.
c) Para o controle da entrada e saída de veículos, não é necessário o uso de nenhum sistema que facilite essa gestão.
d) O controle ativo da frota pode ser realizado de diferentes formas. Tudo dependerá da quantidade de veículos a serem gerenciados e do fluxo de operações.
38. O boletim de ocorrência (B.O) é geralmente o documento que formaliza a *notitia criminis* perante a autoridade policial. Sobre o boletim de ocorrência, assinale a alternativa que apresenta uma afirmação **incorreta**:
- a) O boletim de ocorrência deve ser feito somente em casos de roubo.
b) O boletim de ocorrência é um relato por escrito de uma infração penal. O relato é feito pela vítima – ou qualquer outra pessoa – às autoridades policiais.
c) Não existe, no Brasil, padrão para a redação do boletim de ocorrência, pois cada estado adota um padrão próprio.
d) Qualquer pessoa do povo que tiver conhecimento da existência de infração penal em que caiba ação pública poderá, verbalmente ou por escrito, comunicá-la à autoridade policial, e esta, verificada a procedência das informações, mandará instaurar inquérito.
39. O vigia, dentre muitas atribuições, também atua na guarda e no zelo pelo patrimônio público. Com base nisso, assinale abaixo a alternativa **incorreta**.
- a) O vigia realiza serviços de vistoria do patrimônio em espaços abertos e fechados.
b) O vigia tem a atribuição de oferecer resistência a ações criminosas.
c) Monumentos históricos, culturais, academias populares, fábricas, armazéns, residências, estacionamentos, edifícios públicos, privados e outros estabelecimentos, inclusive comerciais estão entre estes patrimônios.
d) O vigia controla o fluxo de pessoas nos patrimônios públicos.
40. Marque o item que **não** se refere as atividades de um Vigia.
- a) Orientar pessoas e zelar pela guarda de um patrimônio.
b) Controlar o fluxo de entrada e saída de pessoas.
c) Acionar polícia e corpo de bombeiros quando necessário.
d) Fazer a limpeza e higienização dos espaços públicos.